





Dear Family,

Your child is beginning a new unit in geometry. In this unit, children will be learning about shapes that have four sides. Shapes with four sides are called *quadrilaterals*.

These are examples of quadrilaterals:



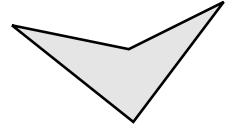
square



rectangle



parallelogram



quadrilateral

square: It has four square corners and four sides of equal length.


rectangle: It has four square corners and opposite sides of equal length.

parallelogram: It has two pairs of parallel sides.

quadrilateral: It has four sides.

Some shapes can be described by more than one of these terms.

In this unit, your child will learn to identify all of the terms that can be used to describe a quadrilateral. For example, your child will be asked to mark each term that identifies a particular shape.



- | | | | |
|---|---|---|---|
| <input checked="" type="checkbox"/> quadrilateral | <input checked="" type="checkbox"/> quadrilateral | <input checked="" type="checkbox"/> quadrilateral | <input checked="" type="checkbox"/> quadrilateral |
| <input checked="" type="checkbox"/> parallelogram | <input checked="" type="checkbox"/> parallelogram | <input checked="" type="checkbox"/> parallelogram | <input type="checkbox"/> parallelogram |
| <input checked="" type="checkbox"/> rectangle | <input checked="" type="checkbox"/> rectangle | <input type="checkbox"/> rectangle | <input type="checkbox"/> rectangle |
| <input checked="" type="checkbox"/> square | <input type="checkbox"/> square | <input type="checkbox"/> square | <input type="checkbox"/> square |

If you have any questions or comments, please call or write to me.
Thank you.

Sincerely,
Your child's teacher



Estimada familia:

Su niño está comenzando una nueva unidad de geometría. En esta unidad, los niños aprenderán acerca de figuras que tienen cuatro lados. Las figuras de cuatro lados se llaman *cuadriláteros*.

Éstos son ejemplos de cuadriláteros:



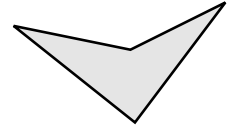
cuadrado



rectángulo



paralelogramo



cuadrilátero

cuadrado: tiene cuatro vértices rectos y cuatro lados de igual longitud.




rectángulo: tiene cuatro vértices rectos y lados opuestos de igual longitud.

paralelogramo: tiene dos pares de lados paralelos.

cuadrilátero: tiene cuatro lados.

Algunas figuras se pueden describir con más de uno de estos términos.

En esta unidad, su niño aprenderá a identificar todos los términos usados para describir un cuadrilátero. Por ejemplo, se le pedirá a su niño que marque cada término que identifique una figura en particular.



- | | | | |
|---|---|---|--|
| <input checked="" type="checkbox"/> cuadrilátero | <input checked="" type="checkbox"/> cuadrilátero | <input checked="" type="checkbox"/> cuadrilátero | <input checked="" type="checkbox"/> cuadrilátero |
| <input checked="" type="checkbox"/> paralelogramo | <input checked="" type="checkbox"/> paralelogramo | <input checked="" type="checkbox"/> paralelogramo | <input type="checkbox"/> paralelogramo |
| <input checked="" type="checkbox"/> rectángulo | <input checked="" type="checkbox"/> rectángulo | <input type="checkbox"/> rectángulo | <input type="checkbox"/> rectángulo |
| <input checked="" type="checkbox"/> cuadrado | <input type="checkbox"/> cuadrado | <input type="checkbox"/> cuadrado | <input type="checkbox"/> cuadrado |

Si tiene alguna pregunta o comentario, por favor comuníquese conmigo.
Gracias.

Atentamente,
El maestro de su niño